



Die schwierigsten Prüfungsfragen zum Sportbootführerschein

SBF-Binnen und SBF-See

Auswertung von 14.871.889 Fragen und
Antworten auf bootspruefung.de von August
bis Dezember 2023

Inhalt

- 01** Über diesen Report
- 02** SBF-Binnen/See: Verteilung der Prüfungsfragen
- 03** SBF-Binnen: Analyse der 30 schwierigsten Prüfungsfragen
- 04** SBF-See: Analyse der 30 schwierigsten Prüfungsfragen
- 05** SBF-Binnen: Die 5 schwierigsten Prüfungsfragen im Detail
- 10** SBF-See: Die 5 schwierigsten Prüfungsfragen im Detail
- 15** Über uns
- 16** Anhang: Die 30 schwierigsten Prüfungsfragen zum SBF-Binnen
- 17** Anhang: Die 30 schwierigsten Prüfungsfragen zum SBF-Binnen
- 18** Impressum und Datenschutz

Über diesen Report

Liebe Leserinnen und Leser,

dieser Report basiert auf fast 15 Millionen Antworten, die Nutzer auf unserer Webseite und in unseren Mobile-Apps zwischen August und Dezember 2023 abgegeben haben, während sie sich auf die Theorieprüfung für den SBF-Binnen und SBF-See vorbereitet haben.

Der Report richtet sich an Ausbildungsstätten und Lernende, die aufgrund der Erkenntnisse auf den nächsten Seiten die Schwerpunkte in der Ausbildung so setzen können, dass auch die schwierigsten Prüfungsfragen bei der Prüfung mühelos gelingen.

Auch für die Kommission, die die Prüfungsfragen erarbeitet, dürften die Erkenntnisse dieses Reports interessant sein, weil sie einen Anhaltspunkt liefern, welche Prüfungsfragen im Fragenkatalog der Sportbootführerschein-Prüfung für die Lernenden zu schwierig (oder zu einfach) sind.

Das bootspruefung.de-Team wünscht allen Lernenden viel Erfolg bei der Prüfung und immer eine Handbreit Wasser unter dem Kiel!

SBF-Binnen/SBF-See: Verteilung der Prüfungsfragen

SBF-Binnen

Verteilung der Prüfungsfragen



■ Basisfragen	72
■ spez. Binnen-Fragen	181
■ Segelfragen	47

SBF-See

Verteilung der Prüfungsfragen



■ Basisfragen	72
■ spez. See-Fragen	213

Für den SBF-Binnen unter Motor müssen für die Theorieprüfung die 72 Basisfragen und die 181 spezifischen Binnen-Fragen gelernt werden. Will man zusätzlich den SBF-Binnen unter Segeln erlangen, müssen auch die 47 Segelfragen gelernt werden.

Für den SBF-See müssen die 72 Basisfragen sowie die 213 spezifischen See-Fragen gelernt werden.

Die 72 Basisfragen für den SBF-Binnen und den SBF-See sind identisch und entfallen an der Prüfung, wenn man bereits einen der beiden Scheine besitzt. Legt man die beiden Prüfungen als Kombiprüfung ab, müssen die 72 Basisfragen ebenfalls nur einmal beantwortet werden.

SBF-Binnen: Analyse der 30 schwierigsten Prüfungsfragen

Die 30 schwierigsten Prüfungsfragen zum SBF-Binnen:



Die wichtigste Erkenntnis:

Der Segel-Teil der Theorieprüfung zum SBF-Binnen (Segel-Fragen) ist schwieriger als der Rest der Theorieprüfung (Basisfragen und spezifische Binnen-Fragen) zum SBF-Binnen.

SBF-See: Analyse der 30 schwierigsten Prüfungsfragen

Die 30 schwierigsten Prüfungsfragen zum SBF-See:

1 von 72
Basisfragen



*1,4% der
Basisfragen*

29 von 213 spezifischen
See-Fragen



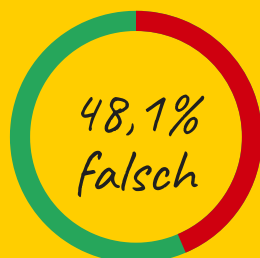
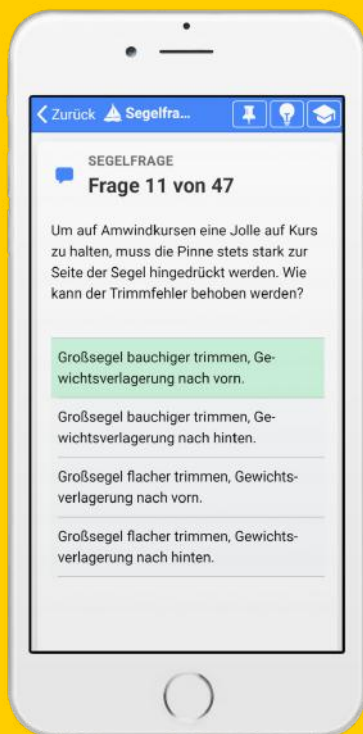
*13,6% der spezifischen
See-Fragen*

Die wichtigsten Erkenntnisse:

Beim SBF-See findet sich ein kleinerer Teil der Basisfragen in den schwierigsten Prüfungsfragen wieder als beim SBF-Binnen.

Die spezifischen See-Fragen stellen in der Theorieprüfung zum SBF-See die größere Herausforderung dar.

SBF-Binnen: Die 5 schwierigsten Prüfungsfragen im Detail (1 von 5)



Frage 292 wurde 9.055x beantwortet:

4703x korrekt

4352x falsch

Frage 292

Segelfrage

"Um auf Amwindkursen eine Jolle auf Kurs zu halten, muss die Pinne stets stark zur Seite der Segel hingedrückt werden. Wie kann der Trimmfehler behoben werden?"

- **Großsegel bauchiger trimmen, Gewichtsverlagerung nach vorn.**
- Großsegel flacher trimmen, Gewichtsverlagerung nach vorn.
- Großsegel bauchiger trimmen, Gewichtsverlagerung nach hinten.
- Großsegel flacher trimmen, Gewichtsverlagerung nach hinten.

Die Fragen und Antworten zum SBF-Binnen werden von der Wasserstraßen- und Schifffahrtsverwaltung des Bundes veröffentlicht. Die genaue Reihenfolge der Antworten zu jeder Prüfungsfrage ist nicht öffentlich bekannt.

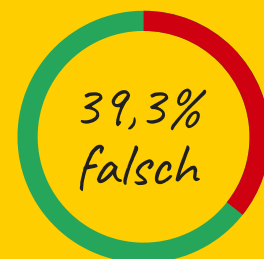
SBF-Binnen: Die 5 schwierigsten Prüfungsfragen im Detail (2 von 5)

Frage 187

spezifische Binnen-Frage

"Ein Kleinfahrzeug A segelt nachts auf Vorwindkurs stromab, Großsegel an Steuerbord. Backbord querab kommt ein grünes Seitenlicht eines Bootes B immer näher, das kein Topplicht führt. Wer ist ausweichpflichtig?"

- **Das Kleinfahrzeug A ist ausweichpflichtig. Ein Boot mit Wind von Backbord muss ausweichen, wenn es nicht klar ausmachen kann, ob das luvseitige Boot den Wind von Steuerbord hat.**
- Das Kleinfahrzeug A ist ausweichpflichtig. Ein Boot mit Wind von Steuerbord muss ausweichen, wenn es nicht klar ausmachen kann, ob das luvseitige Boot den Wind von Backbord hat.
- Boot B ist ausweichpflichtig, weil es sich bei Fahrzeug A um ein Kleinfahrzeug unter Segel handelt, das den Wind von Backbord hat.
- Boot B ist ausweichpflichtig, weil es sich um ein Kleinfahrzeug handelt und Kleinfahrzeuge anderen Kleinfahrzeugen unter Segel ausweichen müssen.

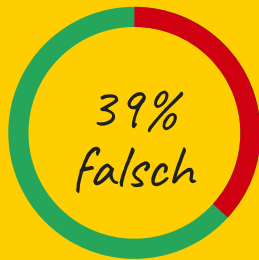


Frage 187 wurde 38.565x beantwortet:

23.427x korrekt

15.138x falsch

SBF-Binnen: Die 5 schwierigsten Prüfungsfragen im Detail (3 von 5)



Frage 291 wurde 8351x beantwortet:

5.090x korrekt

3.261x falsch

Frage 291

Segelfrage

"Um auf Amwindkursen eine Jolle auf Kurs zu halten, muss die Pinne stets stark von der Seite der Segel weggezogen werden. Wie kann der Trimmfehler behoben werden?"

- **Großsegel flacher trimmen, Gewichtsverlagerung nach achtern.**
- Großsegel flacher trimmen, Gewichtsverlagerung nach vorne.
- Vorsegel flacher trimmen, Gewichtsverlagerung nach achtern.
- Vorsegel flacher trimmen, Gewichtsverlagerung nach vorne.

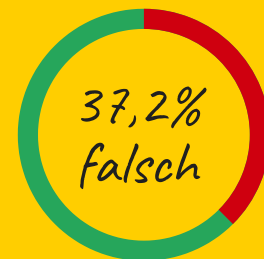
SBF-Binnen: Die 5 schwierigsten Prüfungsfragen im Detail (4 von 5)

Frage 96

spezifische Binnen-Frage

Was bedeutet "zu Berg" oder "Bergfahrt" auf Kanälen?

- Die Fahrt, die in Teil II der Binnenschiffahrtsstraßen-Ordnung als Fahrt "zu Berg" oder "Bergfahrt" festgelegt ist.
- Die Fahrt, die in Teil I der Binnenschiffahrtsstraßen-Ordnung als Fahrt "zu Berg" oder "Bergfahrt" festgelegt ist.
- Die Fahrt in Richtung Quelle
- Die Fahrt gegen die Strömung.

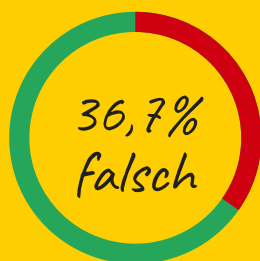


Frage 96 wurde 26545x beantwortet:

16664x korrekt

9881x falsch

SBF-Binnen: Die 5 schwierigsten Prüfungsfragen im Detail (5 von 5)



Frage 186 wurde 25.135x beantwortet:

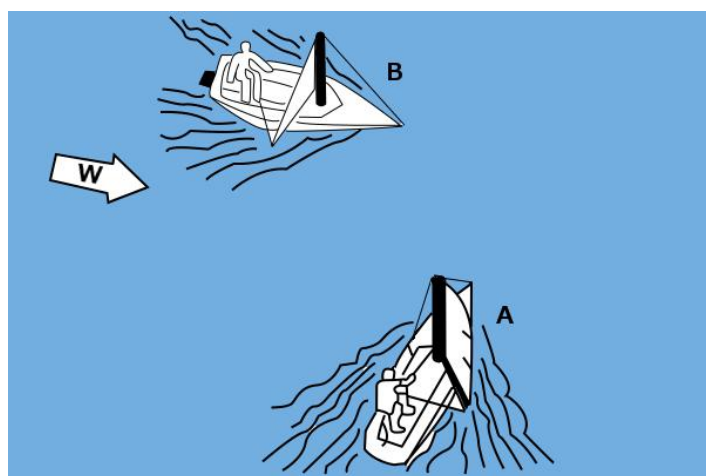
15.918x korrekt

9217x falsch

Frage 186

spezifische Binnen-Frage

"Zwei Fahrzeuge unter Segel liegen auf Kollisionskurs. Wer ist ausweichpflichtig?"



- **B ist ausweichpflichtig. Das luvseitige Boot muss dem leeseitigen ausweichen.**
- A ist ausweichpflichtig. Das luvseitige Boot muss dem leeseitigen ausweichen.
- A ist ausweichpflichtig. Das leeseitige Boot muss dem luvseitigen ausweichen.
- B ist ausweichpflichtig. Das leeseitige Boot muss dem luvseitigen ausweichen.

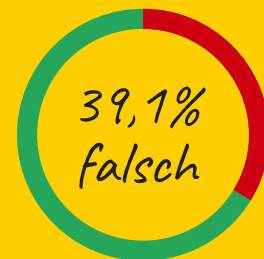
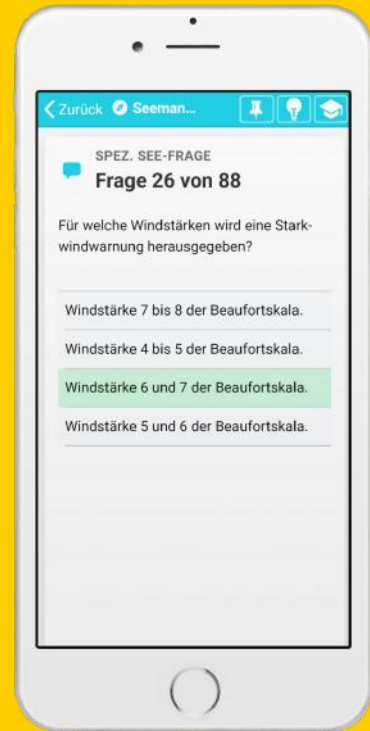
SBF-See: Die 5 schwierigsten Prüfungsfragen im Detail (1 von 5)

Frage 267

spezifische See-Frage

"Für welche Windstärken wird eine Starkwindwarnung herausgegeben?"

- **Windstärke 6 und 7 der Beaufortskala.**
- Windstärke 5 und 6 der Beaufortskala.
- Windstärke 4 bis 5 der Beaufortskala.
- Windstärke 7 bis 8 der Beaufortskala.

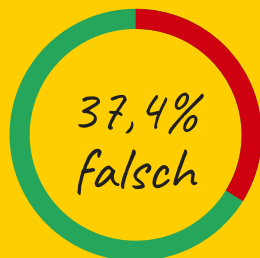
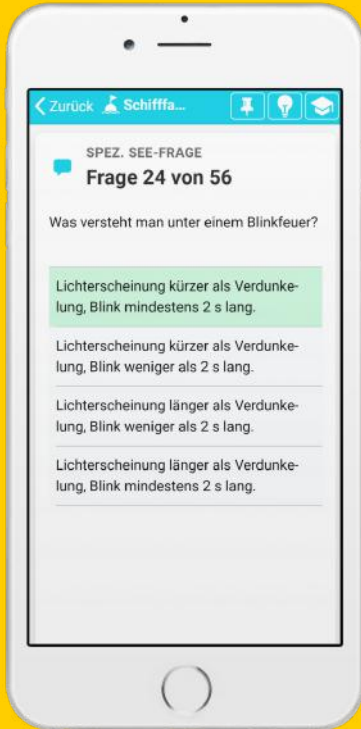


Frage 267 wurde 26.487x beantwortet:

16.135x korrekt

10.352x falsch

SBF-See: Die 5 schwierigsten Prüfungsfragen im Detail (2 von 5)



Frage 220 wurde 28.536x beantwortet:

17.852x korrekt

10.684x falsch

Frage 220

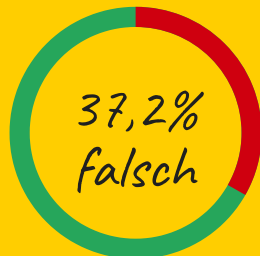
spezifische See-Frage

"Was versteht man unter einem Blinkfeuer?"

- **Lichterscheinung kürzer als Verdunkelung, Blink mindestens 2 s lang.**
- Lichterscheinung kürzer als Verdunkelung, Blink weniger als 2 s lang.
- Lichterscheinung länger als Verdunkelung, Blink mindestens 2 s lang.
- Lichterscheinung länger als Verdunkelung, Blink weniger als 2 s lang.

Die Fragen und Antworten zum SBF-Binnen werden von der Wasserstraßen- und Schifffahrtsverwaltung des Bundes veröffentlicht. Die genaue Reihenfolge der Antworten zu jeder Prüfungsfrage ist nicht öffentlich bekannt.

SBF-See: Die 5 schwierigsten Prüfungsfragen im Detail (3 von 5)



Frage 118 wurde 49.179x beantwortet:

30.897x korrekt

18.282x falsch

Frage 118

spezifische See-Frage

"Welche Fahrzeuge geben bei verminderter Sicht mindestens alle zwei Minuten drei aufeinander folgende Töne mit der Pfeife, und zwar **lang, kurz, kurz?**"

(- ● ●)

- Ein manövrierunfähiges Fahrzeug in Fahrt, ein manövrierbehindertes Fahrzeug in Fahrt oder vor Anker, ein tiefgangbehindertes Fahrzeug in Fahrt, ein Segelfahrzeug in Fahrt, ein schleppendes oder schiebendes Fahrzeug in Fahrt, ein fischendes Fahrzeug in Fahrt oder vor Anker.
- Ein manövrierunfähiges Fahrzeug in Fahrt, ein manövrierbehindertes Fahrzeug in Fahrt oder vor Anker, ein tiefgangbehindertes Fahrzeug in Fahrt, ein Maschinenfahrzeug in Fahrt, das Fahrt durchs Wasser macht, ein schleppendes oder schiebendes Fahrzeug in Fahrt, ein fischendes Fahrzeug in Fahrt oder vor Anker.
- Ein manövrierunfähiges Fahrzeug in Fahrt, ein manövrierbehindertes Fahrzeug in Fahrt oder vor Anker, ein tiefgangbehindertes Fahrzeug in Fahrt, ein Segelfahrzeug in Fahrt, ein schleppendes oder schiebendes Fahrzeug in Fahrt, ein fischendes Fahrzeug in Fahrt oder vor Anker, ein Maschinenfahrzeug in Fahrt, das seine Maschine gestoppt hat und keine Fahrt durchs Wasser macht.
- Ein manövrierunfähiges Fahrzeug in Fahrt, ein manövrierbehindertes Fahrzeug in Fahrt oder vor Anker, ein tiefgangbehindertes Fahrzeug in Fahrt, ein Segelfahrzeug in Fahrt, ein schleppendes oder schiebendes Fahrzeug in Fahrt, ein geschlepptes Fahrzeug oder das letzte bemannte Fahrzeug eines Schleppverbandes in Fahrt ein fischendes Fahrzeug in Fahrt oder vor Anker.

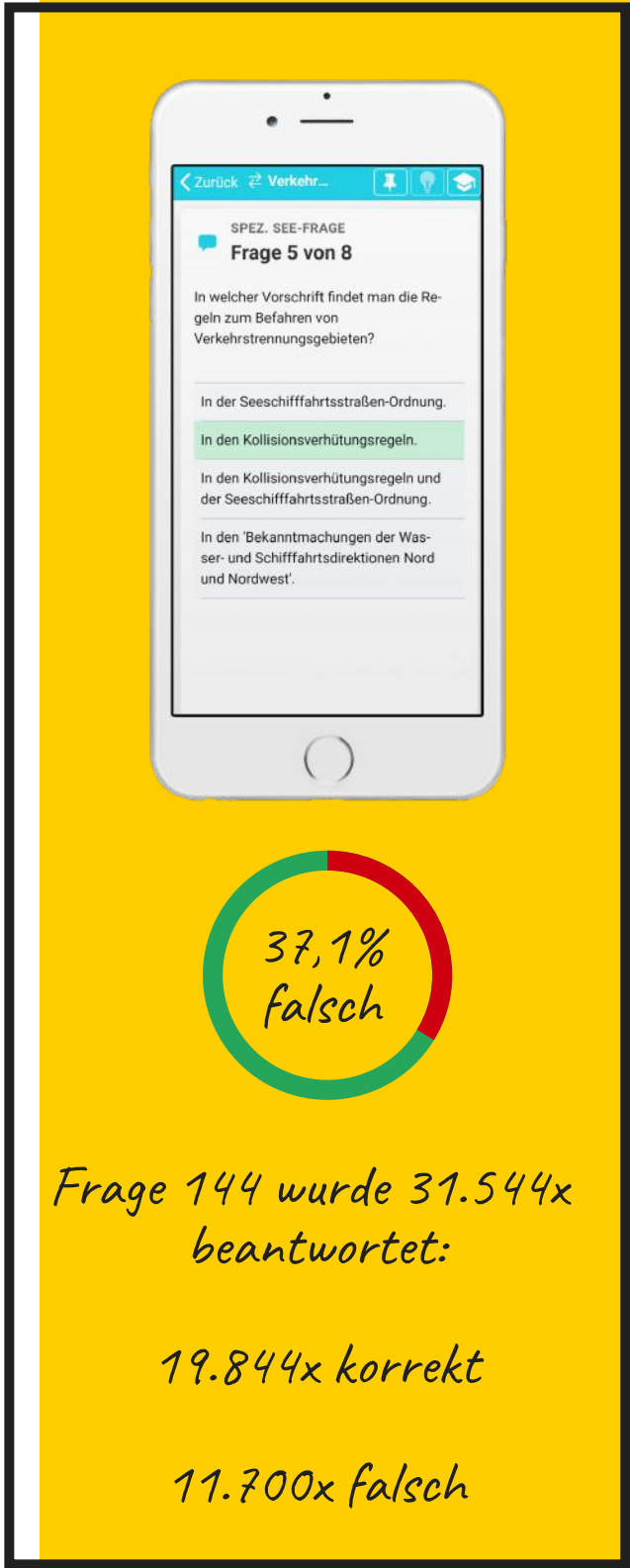
SBF-See: Die 5 schwierigsten Prüfungsfragen im Detail (4 von 5)

Frage 144

spezifische See-Frage

"In welcher Vorschrift findet man die Regeln zum Befahren von Verkehrstrennungsgebieten?"

- In den **Kollisionsverhütungsregeln**.
- In der Seeschiffahrtsstraßen-Ordnung.
- In den Kollisionsverhütungsregeln und der Seeschiffahrtsstraßen-Ordnung.
- In den 'Bekanntmachungen der Wasser- und Schifffahrtsdirektionen Nord und Nordwest'.



The image shows a smartphone screen with a quiz question in German. The question asks where the rules for navigating traffic separation zones are found. The correct answer is 'In den Kollisionsverhütungsregeln', which is highlighted in green. Below the question, a donut chart indicates that 37.1% of answers were incorrect. The chart is divided into a green section (62.9%) and a red section (37.1%).

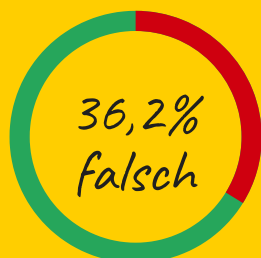
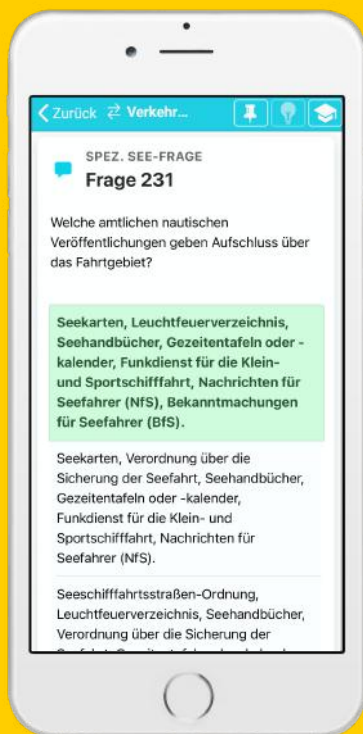
37,1% falsch

Frage 144 wurde 31.544x beantwortet:

19.844x korrekt

11.700x falsch

SBF-See: Die 5 schwierigsten Prüfungsfragen im Detail (5 von 5)



Frage 231 wurde 33.049x beantwortet:

21.093x korrekt

11.956x falsch

Frage 231

spezifische See-Frage

231. Welche amtlichen nautischen Veröffentlichungen geben Aufschluss über das Fahrtgebiet?

- **Seekarten, Leuchtfeuerverzeichnis, Seehandbücher, Gezeitentafeln oder -kalender, Funkdienst für die Klein- und Sportschiffahrt, Nachrichten für Seefahrer (NfS), Bekanntmachungen für Seefahrer (BfS).**
- Seekarten, Verordnung über die Sicherung der Seefahrt, Seehandbücher, Gezeitentafeln oder -kalender, Funkdienst für die Klein- und Sportschiffahrt, Nachrichten für Seefahrer (NfS).
- Seeschiffahrtsstraßen-Ordnung, Leuchtfeuerverzeichnis, Seehandbücher, Verordnung über die Sicherung der Seefahrt, Gezeitentafeln oder -kalender, Bekanntmachungen der Generaldirektion Wasserstraßen und Schifffahrt (GDWS).
- Schifffahrtspolizeiliche Anordnungen, Gezeitentafeln oder Funkdienst für die Klein- und Sportschiffahrt, Nachrichten für Seefahrer (NfS), Bekanntmachungen für Seefahrer (BfS).

Über uns

Bootspruefung.de hat seit 2013 über 750.000 angehende Skipper durch die theoretische Bootsführerscheinprüfung gebracht.

Laden Sie jetzt kostenlos unsere App herunter oder testen Sie unseren Onlinekurs unter www.bootspruefung.de!



*Jetzt App herunterladen
unter
bootspruefung.de/mobile-app*

Anhang: Die 30 schwierigsten Prüfungsfragen zum SBF-Binnen

Fragen-Id	Frage	Anzahl korrekter Antworten	Korrekte Antworten in Prozent	Anzahl falsche Antworten	Falsche Antworten in Prozent
292	Um auf Amwindkursen eine Jolle auf Kurs zu halten, muss die Pinne stets stark zur Seite der Segel hingedrückt werden. Wie kann der Trimmfehler behoben werden?	4703	51.9%	4352	48.1%
187	Ein Kleinfahrzeug A segelt nachts auf Vorwindkurs stromab, Großsegel an Steuerbord. Backbord querab kommt ein grünes Seitenlicht eines Bootes B immer näher, das kein Topplicht führt. Wer ist ausweichpflichtig?	23427	60.7%	15138	39.3%
291	Um auf Amwindkursen eine Jolle auf Kurs zu halten, muss die Pinne stets stark von der Seite der Segel weggezogen werden. Wie kann der Trimmfehler behoben werden?	5090	61%	3261	39%
96	Was bedeutet "zu Berg" oder "Bergfahrt" auf Kanälen?	16664	62.8%	9881	37.2%
186	Zwei Kleinfahrzeuge unter Segel liegen auf Kollisionskurs. Wer ist ausweichpflichtig?	15918	63.3%	9217	36.7%
287	Wie wirkt sich ein Holepunkt, der zu weit vorne liegt, auf Stand und Beanspruchung des Vorsegels aus?	5023	63.7%	2862	36.3%
256	Was wird unter einer "Kielschweryacht" verstanden?	7350	64.2%	4105	35.8%
30	Was bedeuten diese Lichter vor einer Schleuse? (Skizze)	10028	68.8%	4545	31.2%
286	Wie wirkt sich ein Holepunkt, der zu weit vorne liegt, auf Stand und Beanspruchung des Vorsegels aus?	7096	68.8%	3214	31.2%
283	Wie verändern sich Abdrift und Krängung, wenn das Schwert einer Jolle auf einem Amwindkurs etwas aufgeholt wird?	8153	69.6%	3557	30.4%
188	Der seitliche Abstand zwischen den Booten A, B und C verringert sich ständig. Welches Boot kann seinen Kurs beibehalten?	25273	69.7%	11004	30.3%
194	Ein Kleinfahrzeug unter Segel und mit Maschinenantrieb kreuzt nachts stromauf. Ein Fahrzeug kommt entgegen, das nur ein weißes Licht führt. Was bedeutet dieses Licht?	22459	70%	9644	30%
29	Welche Bedeutung haben folgende Schifffahrtszeichen?	10407	70.3%	4392	29.7%
197	Wo ist die Geschwindigkeit zu vermindern, um Sog und Wellenschlag zu vermeiden?	24084	70.3%	10174	29.7%
284	Mit welcher Krängung sollte eine Jolle üblicherweise gesegelt werden und weshalb?	10631	71.6%	4223	28.4%
101	Mit welchen Zeichen werden Hindernisse wie zum Beispiel Buhnen und Kribben an der rechten Seite der Wasserstraße bezeichnet?	27469	71.8%	10764	28.2%
277	Warum ist der scheinbare Wind auf einem Vorwindkurs schwächer als der wahre Wind?	4709	71.8%	1849	28.2%
102	Was kennzeichnet eine grün-weiß gestreifte Schwimmstange mit grünem Kegel, Spitze nach oben, oder eine grüne Tonne mit grün-weiß gestreiftem Aufsatz mit grünem Kegel, Spitze nach oben?	26612	72.1%	10285	27.9%
161	Was bedeuten fünf kurze Töne?	26092	72.1%	10094	27.9%
21	Welche Bedeutung hat folgendes Tafelzeichen?	12033	72.2%	4641	27.8%
141	Wie muss sich ein Fahrzeug mit Topplicht und Seitenlichtern gegenüber einem Kleinfahrzeug mit Seitenlichtern, welches sich auf Kollisionskurs befindet, verhalten?	30964	72.2%	11937	27.8%
290	Wie beeinflusst ein Unterliekstrecker den Trimm des Segels?	4900	72.3%	1873	27.7%
185	Zwei Kleinfahrzeuge A und B unter Segel liegen auf Kollisionskurs (Skizze). Wer ist ausweichpflichtig?	25907	72.6%	9795	27.4%
243	Welche Bedeutung haben diese Tafeln an der nachstehenden gekennzeichneten Brücke?	24530	73.1%	9022	26.9%
76	Was beinhaltet die allgemeine Sorgfaltspflicht?	25010	74%	8800	26%
11	Wozu dient die Lichterführung?	10329	74.3%	3575	25.7%
169	Was bedeutet eine Folge sehr kurzer Töne?	28471	74.4%	9811	25.6%
282	Wie sollte das Schwert einer Jolle auf Vorwindkurs gefahren werden und warum?	7107	74.6%	2419	25.4%
28	Welche Bedeutung haben folgende Schifffahrtszeichen?	10744	74.8%	3618	25.2%

*Interessiert an der Auswertung von allen 300 Prüfungsfragen?
Schreiben Sie uns eine E-Mail an info@bootspruefung.de!*

Anhang: Die 30 schwierigsten Prüfungsfragen zum SBF-See

Fragen-Id	Frage	Anzahl korrekter Antworten	Korrekte Antworten in Prozent	Anzahl falsche Antworten	Falsche Antworten in Prozent
267	Für welche Windstärken wird eine Starkwindwarnung herausgegeben?	16135	60.9%	10352	39.1%
220	Was versteht man unter einem Blinkfeuer?	17852	62.6%	10684	37.4%
118	Welche Fahrzeuge geben bei verminderter Sicht mindestens alle zwei Minuten drei aufeinander folgende Töne mit der Pfeife, und zwar lang, kurz, kurz?	30897	62.8%	18282	37.2%
144	In welcher Vorschrift findet man die Regeln zum Befahren von Verkehrstrennungsgebieten?	19844	62.9%	11700	37.1%
231	Welche amtlichen nautischen Veröffentlichungen geben Aufschluss über das Fahrtgebiet?	21093	63.8%	11956	36.2%
124	Welches zusätzliche Schallsignal darf jeder Ankerlieger bei verminderter Sicht geben, um einem sich nähernden Fahrzeug seinen Standort anzuzeigen?	32487	64.9%	17555	35.1%
173	Bei welchem Signal dürfen Sportfahrzeuge in die Schleusen des Nord-Ostsee-Kanals einfahren?	18096	66%	9316	34%
149	Was ist das für ein Fahrzeug und was ist zu beachten? (Skizze)	25723	66.2%	13118	33.8%
153	Welche örtlichen Sondervorschriften zusätzlich zur Seeschiffahrtsstraßen-Ordnung (SeeSchStrO) und zur Schifffahrtsordnung Emsmündung (EmsSchO) gibt es und was ist darin geregelt?	31228	66.2%	15943	33.8%
169	Wo darf Wasserski gelaufen, Wassermotorrad gefahren oder mit einem Segelsurfbrett gefahren werden?	21076	66.3%	10725	33.7%
120	Was für ein Schallsignal muss ein Segelfahrzeug in Fahrt von 12 und mehr Meter Länge bei verminderter Sicht geben?	28994	66.7%	14473	33.3%
180	Welche Bedeutung hat folgendes Schifffahrtszeichen? (Skizze)	26573	66.7%	13296	33.3%
171	Wo ist das Ankern verboten?	32527	67.5%	15658	32.5%
210	Was versteht man unter einem Leitfeuer?	28486	67.6%	13630	32.4%
183	Woran ist ein militärisches Warngelände zu erkennen, das wegen Schießübungen für die Schifffahrt gesperrt ist?	17721	68%	8355	32%
29	Welche Bedeutung haben folgende Schifffahrtszeichen?	13635	68.9%	6149	31.1%
113	Welche Fahrzeuge führen nur Seitenlichter rot und grün und ein weißes Hecklicht?	18721	68.9%	8439	31.1%
189	Welche Bedeutung haben folgende Sichtzeichen?	26146	69.4%	11547	30.6%
254	Was versteht man unter "Tidenhub"?	17006	69.4%	7515	30.6%
268	Für welche Windstärken wird eine Sturmwarnung herausgegeben?	16226	69.4%	7169	30.6%
249	Was versteht man unter Ebbe?	15996	69.7%	6968	30.3%
87	Was sind "Verkehrstrennungsgebiete"?	27398	71%	11200	29%
97	Welches Fahrzeug führt diese Lichter? (Skizze)	17706	71.2%	7176	28.8%
81	Wann gilt ein Fahrzeug als überholendes Fahrzeug?	17838	71.3%	7163	28.7%
100	Welche Lichter führen manövrierunfähige Fahrzeuge von 12 und mehr Meter Länge in Fahrt, ohne Fahrt durch das Wasser?	31352	71.5%	12504	28.5%
187	Welche Bedeutung haben folgende Sichtzeichen? (Skizze)	27987	71.5%	11143	28.5%
269	Was ist in amtlichen Wetterberichten unter "frischem Wind" zu verstehen?	17370	71.6%	6905	28.4%
104	Welches Fahrzeug führt diese Signalkörper? (Skizze)	17384	71.9%	6799	28.1%
145	Wie hat sich ein Maschinenfahrzeug bei Kollisionsgefahr in einem Einbahnweg eines Verkehrstrennungsgebietes gegenüber einem Maschinenfahrzeug zu verhalten, das den Einbahnweg von Steuerbord kommend quert?	27365	71.9%	10670	28.1%

*Interessiert an der Auswertung von allen 285 Prüfungsfragen?
Schreiben Sie uns eine E-Mail an info@bootspruefung.de!*

Impressum

Kontakt:

info@bootspruefung.de

Breu IT & Consulting

Rafael Breu

Tschudistrasse 12

CH-9000 St. Gallen

Schweiz

USt.-Id: CHE-353.791.382

Datenschutz

Alle Auswertungen in diesem Report wurden komplett anonym durchgeführt.

Kompletter Datensatz

Wenn Sie an einer umfassenden Auswertung der 300 Prüfungsfragen des SBF-Binnen oder der 285 Prüfungsfragen zum SBF-See interessiert sind, schreiben Sie uns eine E-Mail an info@bootspruefung.de.

Lizenz

Dieser Report unter **freier Lizenz** darf beliebig vervielfältigt, verbreitet und kopiert werden.